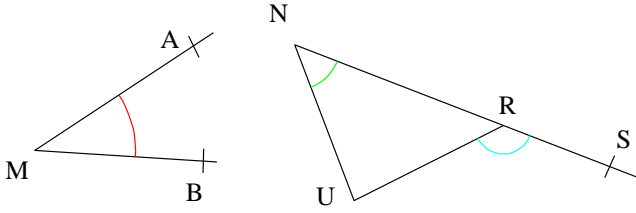


Contrôle angles 6ème

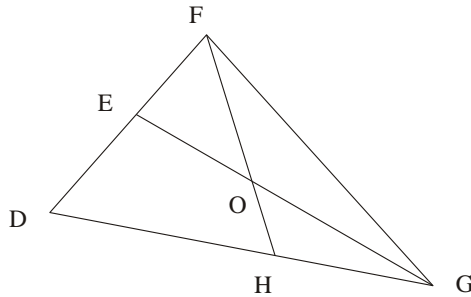
1 Pour chaque angle marqué, précise son **sommet** et ses **côtés**, puis **nomme-le**.



Réponse :

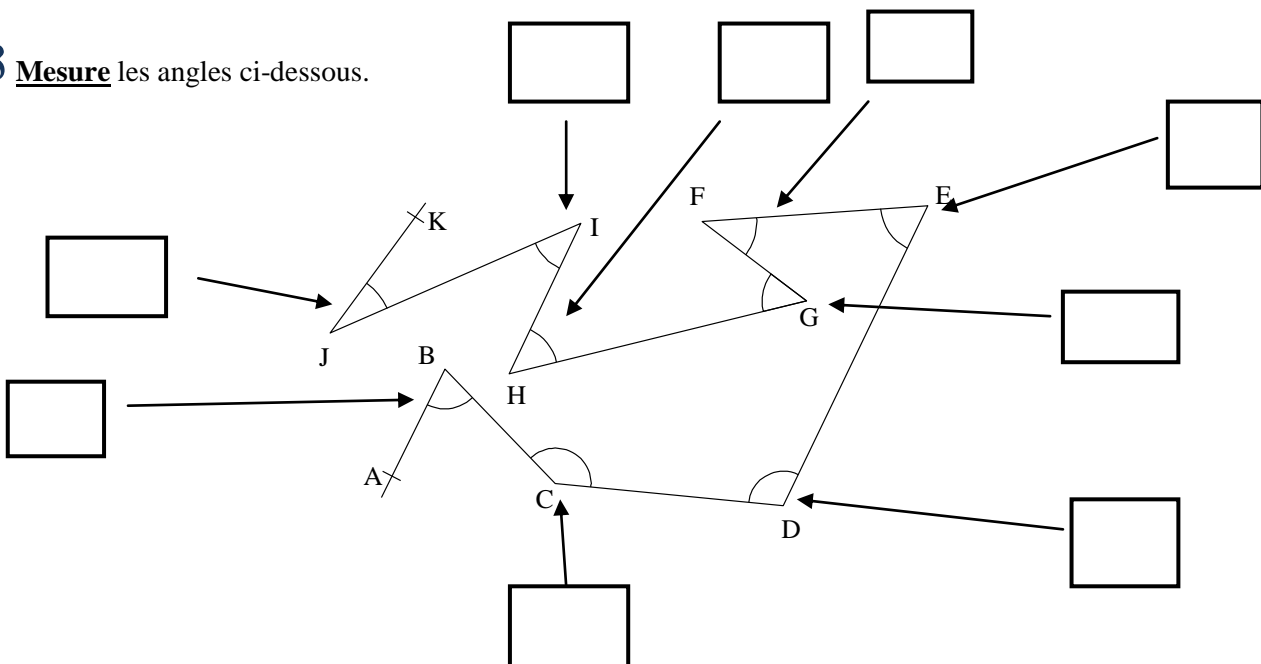
2 1°) **Marque les angles** suivants de différentes couleurs : \widehat{EOF} ; \widehat{EOH} ; \widehat{EDH} ; \widehat{OFG} ; \widehat{EOG} et \widehat{FOG}

2°) Quels angles marqués sont aigus ? Obtus ? Plat?

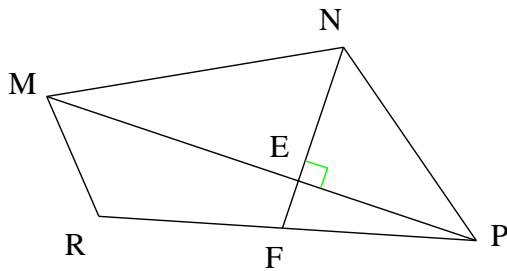


Réponse :

3 **Mesure** les angles ci-dessous.



4 **Associe** à chaque angle sa mesure.



\widehat{ENP} \widehat{PMN} \widehat{FEP} \widehat{MRP} \widehat{NPE} \widehat{MNE} \widehat{MEP}

• • • • • • •

• • • • • • •

28° 37° 53° 62° 131° 180° 90°

5 a) **Construit un** angle \widehat{ABC} tel que $AB = 4 \text{ cm}$ et $\widehat{ABC} = 25^\circ$ (sur feuille à part)

b) **Construit un** angle \widehat{ABC} tel que $AB = 5,5 \text{ cm}$ et $\widehat{ABC} = 140^\circ$ (sur feuille à part)

6 Complète :

Type	Dessin	Mesure